

**ഘയറ്റ്, ക്ഷേത്രം
മുനം തരമുനംതരമ**

കൂട്ടാം കുറയ്ക്കാം

ഗണിതം - യൂണിറ്റ് 7

വർഷിറ്റ് - 1

കുട്ടിയുടെ പേര്:-----

ക്ലാസ്സ്: 1 ഡിവിഷൻ:----- തീയതി:-----

പാറ്റേൺ പൂർത്തിയാക്കാം



2. 11 21 31

3. 44 46 48

4. 60 65 70

5. 84 83 82

6.

7. 25 35 45

8. 13 23 33

9. 9 19 29

10. 4 14 24

ഘയറ്റ്, കോട്ടയം
ഒന്നാം തരം, ഒന്നാണ്ടരം

കൂട്ടാം കുറയ്ക്കാം

ഗണിതം - യൂണിറ്റ് 7

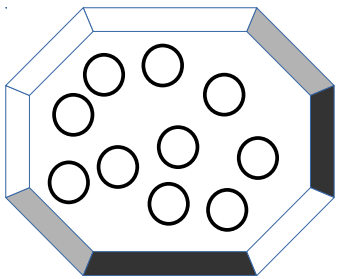
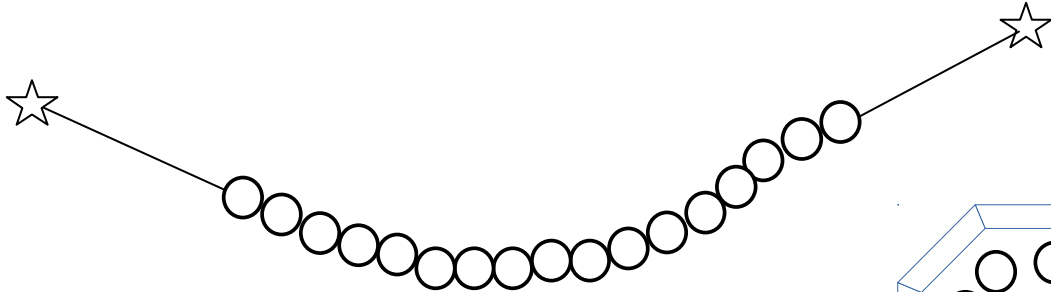
വർഷപ്പീറ്റ് - 2

കൂട്ടിയുടെ പേര്:-----

ക്ലാസ്സ്: 1 ഡിവിഷൻ:----- തീയതി:-----

മീനുവിന്റെ മാല കോർക്കാം

അമ്മ കോർത്തു തുടങ്ങിയ 22 മുത്തുകൾ കൊണ്ടുള്ള മാല പൂർത്തിയാക്കാൻ ശ്രമിക്കുകയാണ് മീനു. ചിനുപ്പൂച്ച ഒറ്റത്തട്ട്! അയ്യോ.....! അവളുടെ കയ്യിൽ നിന്നും കുറച്ച് മുത്തുകൾ താഴെ വീണു. മീനു അത് പെറുക്കി പാത്രത്തിൽ ഇട്ടു. മാല കോർക്കാൻ മീനുവിനെ സഹായിക്കണ്ടേ?



മാലയിൽ ഇപ്പോൾ ഉള്ള മുത്തുകൾ എത്ര =

മാല പൂർത്തിയാക്കാൻ ഇനി എത്ര മുത്തുകൾ വേണം

= + =

പാത്രത്തിൽ ഇനി എത്ര മുത്തുകൾ ബാക്കിയുണ്ട് =

ശ്യാമ, കോട്ടയം
ഒന്നാം തരം മനോഹരം

കൂട്ടാം കുറയ്ക്കാം

ഗണിതം - യൂണിറ്റ് 7


വർഷ്ചീറ്റ് - 3

കൂട്ടിയുടെ പേര്:-----

ക്ലാസ്സ്: 1 ഡിവിഷൻ:----- തീയതി:-----

കോഴിക്കുഞ്ഞുങ്ങൾ എത്ര ?

രാമുവിന്റെ അമ്മ 15 കോഴിമുട്ടകളെ അട വച്ചു.



കുറച്ചു ദിവസം കഴിഞ്ഞപ്പോൾ 7 മുട്ടകളെ വിരിഞ്ഞു. 4 എണ്ണം ചിത്തയായിപ്പോയി. ഇനി എത്രയെണ്ണം കൂടി വിരിയാനുണ്ട്? എല്ലാ മുട്ടകളും വിരിഞ്ഞാൽ എത്ര കോഴിക്കുഞ്ഞുങ്ങളെ?

അട വച്ച മുട്ടകൾ =

വിരിഞ്ഞ മുട്ടകളെ =

ചിത്തയായ മുട്ടകൾ =

ഇനിയും വിരിയാൻ സാധ്യതയുള്ള മുട്ടകളുടെ എണ്ണം =

എല്ലാ മുട്ടകളും വിരിഞ്ഞാൽ ആകെ കോഴിക്കുഞ്ഞുങ്ങളെ

+ =

ഡയറ്റ്, കോട്ടയം
ഒന്നാം തരം മൂന്നാണ്ടരം

കൂട്ടാം കുറയ്ക്കാം

ഗണിതം - യൂണിറ്റ് 7

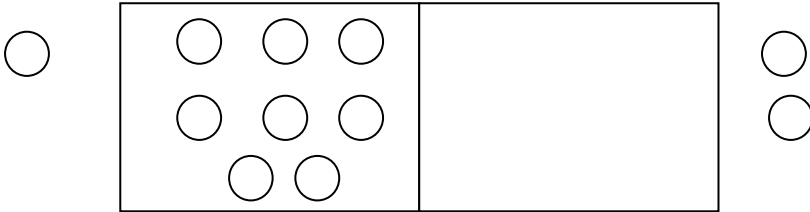
വർഷ്ചീറ്റ് - 4

കൂട്ടിയുടെ പേര്:-----

ക്ലാസ്സ്: 1 ഡിവിഷൻ:----- തീയതി:-----

പിറന്നാൾ സമ്മാനം

കിച്ചുവിന് കിട്ടിയ പിറന്നാള് സമ്മാനങ്ങളില് അവന് ഏറ്റവും ഇഷ്ടപ്പെട്ടത് അമ്മാവൻ കൊടുത്ത ഗെയിം കാർഡ് ആയിരുന്നു. അവൻ കൂട്ടുകാരനായ അച്ചുവിനെയും കൂട്ടി കളിക്കാൻ ഇരുന്നു. നമുക്കും കളിച്ചാലോ ?



നം.	കൂട്ടിയുടെ പേര്	ബോക്സ് 1	ബോക്സ് 2	പുറത്തു പോയത്	ആകെ

ഡയറ്റ്, കോഴയം
രൂപം തരം രൂപംതരം

കൂട്ടാം കുറയ്ക്കാം

ഗണിതം - യൂണിറ്റ് 7

വർഷ്ഷീറ്റ് - 5

കൂട്ടിയുടെ പേര്:-----
ക്ലാസ്സ്: 1 ഡിവിഷൻ:----- തീയതി:-----

മിന്നു മുയലിന്റെ പിറന്നാളിന്

മിന്നു മുയലിന്റെ പിറന്നാളിന് കൂട്ടുകാർക്ക് കൊടുക്കാനായി അമ്മ മുയൽ 18 പഴങ്ങളു കൊണ്ടു വന്നു.

അതിൽ 6 എണ്ണം ചിണ്ടന് കുരങ്ങന് കൊടുത്തു.
ബാക്കി എത്ര? = - =

ബാക്കിയുള്ളതിൽ നിന്ന് 2 എണ്ണം സുന്ദരി തത്തയ്ക്ക് കൊടുത്തു.
 - =

ഇനി മിന്നു മുയലിന്റെ കൈയിൽ ബാക്കി എത്ര? =

ഘയറ്റു, കോട്ടയം
ഒന്നാം തരം ഒന്നാണ്ടരം

കൂട്ടാം കുറയ്ക്കാം

ഗണിതം - യൂണിറ്റ് 7

വർഷപ്പീറ്റ് - 6

കൂട്ടിയുടെ പേര്:-----
ക്ലാസ്സ്: 1 ഡിവിഷൻ:----- തീയതി:-----

കലണ്ടർ പറ്റേണ് പൂർത്തിയാക്കാം

1+	2
8	9

3	4
10	11

2	3
9	10

?	6
2	13

14	?
21	22

13	?
?	6

ഘയറ്റ്, കോട്ടയം
ഒന്നാം തരം ഒന്നാണ്ടരം

കൂട്ടാം കുറയ്ക്കാം

ഗണിതം - യൂണിറ്റ് 7

വർഷ്ഷിറ്റ് - 7

കൂട്ടിയുടെ പേര്:-----

ക്ലാസ്സ്: 1 ഡിവിഷൻ:----- തീയതി:-----

ഒറ്റ സംഖ്യകൾക്ക് നീല നിറവും ഇരട്ടസംഖ്യകൾക്ക് ചുവപ്പ് നിറവും നൽകുക.

12

16

21

13

18

17

2

5

14

3

15

1

6

11

10

20

**ഡയറ്റ്, കോഴയം
മുന്നം തരം മുന്നങ്ങളം**

കൂട്ടാം കുറയ്ക്കാം

ഗണിതം - യൂണിറ്റ് 7

വർഷ്ചീറ്റ് - 8

കൂട്ടിയുടെ പേര്:-----

ക്ലാസ്സ്: 1 ഡിവിഷൻ:----- തീയതി:-----

ചിത്രത്തിൽ കാണുന്ന കളങ്ങളിലെ സംഖ്യകൾ കുത്തനെയും, വിലങ്ങനെയും കൂട്ടിനോക്കൂ. ഉത്തരം എത്ര?

8	1	6
3	5	7
4	9	2

താഴെ കാണുന്ന വിട്ടു പോയ കളങ്ങൾ പൂരിപ്പിക്കൂ. കിട്ടിയ ഉത്തരത്തിന്റെ പ്രത്യേകത എന്ത്?

		6
	5	
4		2

7		
	4	
3		1