

**ഘയറ്റ്, ക്ഷേത്രം**  
**മുനം തരം മുനംതരം**  
**രൂപഭംഗി**



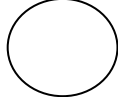
**ഗണിതം - യൂണിറ്റ് 8**

**വർഷിറ്റ് - 1**

**കുട്ടിയുടെ പേര്:-----**

**ക്ലാസ്സ്: 1 ഡിവിഷൻ:----- തീയതി:-----**

**വീട്ടിലും ചുറ്റുപാടുമുള്ള വസ്തുക്കളെ ആകൃതിക്ക് അനുസരിച്ച് തരംതിരിക്കുന്നു.**

|  |  |  |
|---|---|---|
|   |   |   |

**ഘയറ്റ്, ക്ഷേത്രം**  
**മന്നം തരം മന്നങ്ങളരം**  
**രൂപഭംഗി**

ഗണിതം - യൂണിറ്റ് 8

വർക്കഷീറ്റ് - 2

കുട്ടിയുടെ പേര്:-----

ക്ലാസ്സ്: 1 ഡിവിഷൻ:----- തീയതി:-----

ചിത്രത്തിലെ രൂപങ്ങളുടെ എണ്ണം കെ ത്തു:

